

Тренировочная работа по МАТЕМАТИКЕ

11 класс

2017 год

Вариант МА11004

(базовый уровень)

Район

Город

Школа

Класс

Фамилия

Имя

Отчество

Инструкция по выполнению работы

Экзаменационная работа включает в себя 20 заданий.

На выполнение работы отводится 3 часа (180 минут).

Ответы к заданиям записываются по приведенным ниже образцам в виде числа или последовательности цифр. Сначала запишите ответы к заданиям в поле ответа в тексте работы, а затем перенесите их в бланк ответов № 1 справа от номера соответствующего задания.

КИМ Ответ: -0,6.

5	-	0	,	6																	
---	---	---	---	---	--	--	--	--	--	--	--	--	--	--	--	--	--	--	--	--	--

Бланк

Если ответом является последовательность цифр, как в приведенном ниже примере, то запишите эту последовательность в бланк ответов № 1 без пробелов, запятых и других дополнительных символов.

КИМ

Ответ:

А	Б	В	Г
4	3	1	2

9	4	3	1	2																	
---	---	---	---	---	--	--	--	--	--	--	--	--	--	--	--	--	--	--	--	--	--

Бланк

Все бланки ЕГЭ заполняются яркими чёрными чернилами. Допускается использование гелевой, или капиллярной, или перьевой ручек.

При выполнении заданий можно пользоваться черновиком. Записи в черновике не учитываются при оценивании работы.

Баллы, полученные Вами за выполненные задания, суммируются. Постарайтесь выполнить как можно больше заданий и набрать наибольшее количество баллов.

Желаем успеха!

Часть 1

Ответом к каждому заданию является конечная десятичная дробь, целое число или последовательность цифр.

1 Найдите значение выражения $0,21 : \frac{3}{8} + \frac{11}{25}$.

Ответ: _____.

2 Найдите сумму чисел $9,4 \cdot 10^3$ и $2,2 \cdot 10^2$.

Ответ: _____.

3 Товар на распродаже уценили на 45%, при этом он стал стоить 770 р. Сколько рублей стоил товар до распродажи?

Ответ: _____.

4 Длина биссектрисы l_c , проведённой к стороне c треугольника со сторонами a , b и c , вычисляется по формуле $l_c = \frac{1}{a+b} \sqrt{ab((a+b)^2 - c^2)}$. Найдите длину биссектрисы l_c , если $a = 3$, $b = 9$, $c = 4\sqrt{6}$.

Ответ: _____.

5 Найдите значение выражения $5^{3+\log_5 2}$.

Ответ: _____.

6 В доме, в котором живет Маша, 9 этажей и несколько подъездов. На каждом этаже находится по 4 квартиры. Маша живет в квартире № 130. В каком подъезде живет Маша?

Ответ: _____.

7 Найдите корень уравнения $\left(\frac{1}{5}\right)^{x+1} = \frac{1}{25}$.

Ответ: _____.

8 Рыболовное хозяйство строит бассейн для разведения рыбы. Бассейн имеет форму прямоугольника со сторонами 4 м и 12 м. В центре бассейна находится техническая постройка, которая имеет форму прямоугольника со сторонами 2 м и 3 м. Найдите площадь оставшейся части бассейна.

Ответ: _____.

9 Установите соответствие между величинами и их возможными значениями: к каждому элементу первого столбца подберите соответствующий элемент из второго столбца.

ВЕЛИЧИНЫ

- А) время обращения Земли вокруг Солнца
- Б) длительность одно серийного фильма
- В) длительность звучания одной песни
- Г) продолжительность вспышки фотоаппарата

ВОЗМОЖНЫЕ ЗНАЧЕНИЯ

- 1) 3,5 минуты
- 2) 105 минут
- 3) 365 суток
- 4) 0,1 секунды

В таблице под каждой буквой, соответствующей величине, укажите номер её возможного значения.

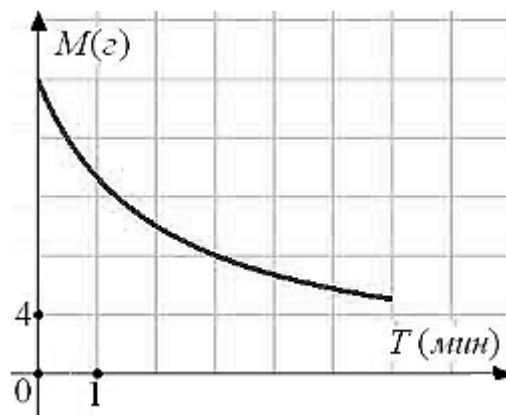
Ответ:

А	Б	В	Г

10 Какова вероятность того, что случайно выбранное натуральное число от 10 до 19 делится на три?

Ответ: _____.

11 В ходе химической реакции количество исходного вещества (реагента), которое еще не вступило в реакцию, со временем постепенно уменьшается. На рисунке эта зависимость представлена графиком. На оси абсцисс откладывается время в минутах, прошедшее с момента начала реакции, на оси ординат – масса оставшегося реагента, который еще не вступил в реакцию (в граммах). Определите по графику, сколько граммов реагента вступило в реакцию за три минуты?



Ответ: _____.

12

Турист подбирает экскурсии. Сведения об экскурсиях представлены в таблице.

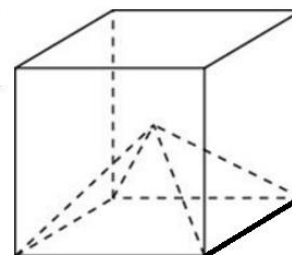
Номер экскурсии	Посещаемые объекты	Стоимость (руб.)
1	Крепость, загородный дворец	350
2	Загородный дворец	50
3	Музей живописи	200
4	Парк	350
5	Парк, музей живописи	300
6	Парк, крепость	350

Пользуясь таблицей, выберите набор экскурсий так, чтобы турист посетил четыре объекта: крепость, загородный дворец, парк и музей живописи, а суммарная стоимость экскурсий не превышала бы 650 рублей. В ответе укажите ровно один набор номеров экскурсий без пробелов, запятых и других дополнительных символов.

Ответ: _____.

13

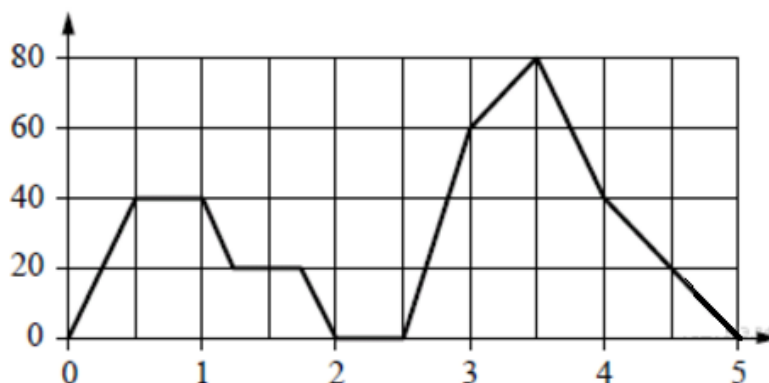
Объем куба равен 12. Найдите объем четырехугольной пирамиды, основанием которой является грань куба, а вершиной — центр куба.



Ответ: _____.

14

На графике изображена зависимость скорости движения легкового автомобиля на пути между двумя городами от времени. На вертикальной оси отмечена скорость в км/ч, на горизонтальной - время в часах, прошедшее с начала движения автомобиля.



Пользуясь графиком, поставьте в соответствие каждому интервалу времени характеристику движения автомобиля на этом интервале.

ИНТЕРВАЛЫ ВРЕМЕНИ

- А) второй час пути
- Б) третий час пути
- В) четвёртый час пути
- Г) пятый час пути

ХАРАКТЕРИСТИКИ ДВИЖЕНИЯ

- 1) автомобиль не разогнался и некоторое время ехал с постоянной скоростью
- 2) скорость автомобиля постоянно снижалась
- 3) автомобиль сделал остановку
- 4) скорость автомобиля достигла максимума за всё время движения

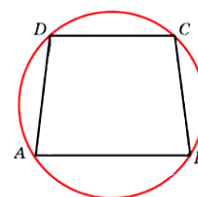
В таблице под каждой буквой укажите соответствующий номер.

Ответ:

А	Б	В	Г

15

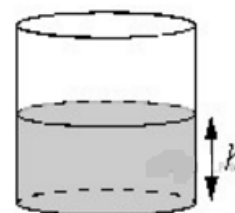
Основания равнобедренной трапеции равны 8 и 6. Радиус описанной окружности равен 5. Найдите высоту трапеции.



Ответ: _____.

16

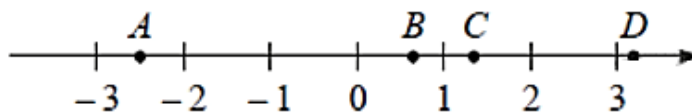
Вода в сосуде цилиндрической формы находится на уровне $h = 80$ см. На каком уровне окажется вода, если её перелить в другой цилиндрический сосуд, у которого радиус основания вдвое больше, чем у первого? Ответ дайте в сантиметрах.



Ответ: _____.

17

На координатной прямой отмечены точки $A, B, C,$ и D .



Число m равно $\log_5 4$. Каждой точке соответствует одно из чисел в правом столбце. Установите соответствие между указанными точками и числами.

ЧИСЛА

- А) A
- Б) B
- В) C
- Г) D

ОТРЕЗКИ

- 1) $4 - m$
- 2) $-\frac{2}{m}$
- 3) $\sqrt{m+1}$
- 4) m^2

Запишите в ответ цифры, расположив их в порядке, соответствующем буквам.

Ответ:

А	Б	В	Г

18 Виктор старше Дениса, но младше Егора. Андрей не старше Виктора. Выберите утверждения, которые верны при указанных условиях.

- 1) Егор самый старший из указанных четырёх человек.
- 2) Андрей и Егор одного возраста.
- 3) Виктор и Денис одного возраста.
- 4) Денис младше Егора.

Ответ: _____.

19 Найдите четырёхзначное число, кратное 22, произведение цифр которого равно 40. В ответе укажите какое-нибудь одно такое число.

Ответ: _____.

20 В меню ресторана имеется 6 видов салатов, 3 вида первых блюд, 5 видов вторых блюд и 4 вида десерта. Сколько вариантов обеда из салата, первого, второго и десерта могут выбрать посетители этого ресторана?

Ответ: _____.