

Тренировочная работа по МАТЕМАТИКЕ

11 класс

2019 год

Вариант МА11003

(профильный уровень)

Район

Город

Школа

Класс

Фамилия

Имя

Отчество

Инструкция по выполнению работы

Экзаменационная работа состоит из двух частей, включающих в себя 19 заданий. Часть 1 содержит 8 заданий с кратким ответом базового уровня сложности. Часть вторая содержит 4 задания с кратким ответом повышенного уровня сложности и 7 заданий с развернутым ответом повышенного и высокого уровней сложности.

На выполнение работы отводится 3 часа 55 минут (235 минут).

Ответы к заданиям 1-12 записываются по приведенным ниже **образцу** в виде целого числа или конечной десятичной дроби. Числа запишите в поля ответов в тексте работы, а затем перенесите их в бланк ответов № 1.

КИМ Ответ: -0,6.

5	-	0	,	6															Бланк
---	---	---	---	---	--	--	--	--	--	--	--	--	--	--	--	--	--	--	-------

При выполнении заданий 13–19 требуется записать полное решение и ответ в бланке ответов № 2.

Все бланки ЕГЭ заполняются яркими чёрными чернилами. Допускается использование гелевой или капиллярной ручки.

При выполнении заданий можно пользоваться черновиком. **Записи в черновике, а также в тексте контрольных измерительных материалов не учитываются при оценивании работы.**

Баллы, полученные Вами за выполненные задания, суммируются. Постарайтесь выполнить как можно больше заданий и набрать наибольшее количество баллов.

После завершения работы проверьте, чтобы ответ на каждое задание в бланках ответов № 1 и № 2 был записан под правильным номером.

Желаем успеха!

Справочные материалы

$$\sin^2 \alpha + \cos^2 \alpha = 1$$

$$\sin 2\alpha = 2 \sin \alpha \cdot \cos \alpha$$

$$\cos 2\alpha = \cos^2 \alpha - \sin^2 \alpha$$

$$\sin(\alpha + \beta) = \sin \alpha \cdot \cos \beta + \cos \alpha \cdot \sin \beta$$

$$\cos(\alpha + \beta) = \cos \alpha \cdot \cos \beta - \sin \alpha \cdot \sin \beta$$

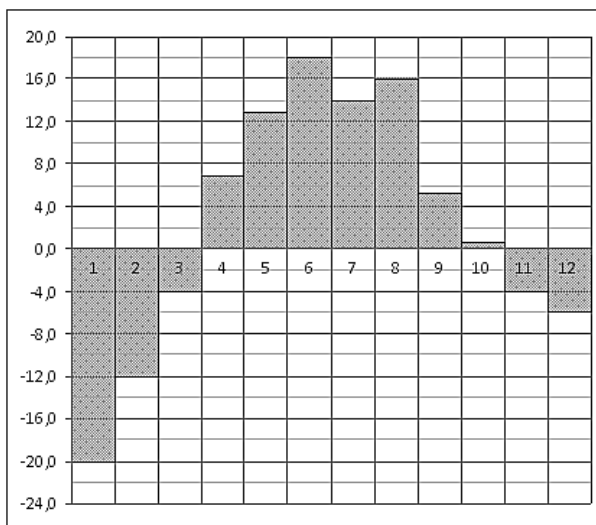
Ответом к заданиям 1–12 является целое число или конечная десятичная дробь. Запишите число в поле ответа в тексте работы, затем перенесите его в БЛАНК ОТВЕТОВ № 1 справа от номера соответствующего задания, начиная с первой клеточки. Каждую цифру, знак «минус» и запятую пишите в отдельной клеточке в соответствии с приведёнными в бланке

Часть 1

1 Среди 40000 жителей города 60% не интересуются футболом. Среди жителей, интересующихся футболом, 80% смотрели по телевизору финал Лиги чемпионов. Сколько жителей города смотрело этот матч по телевизору?

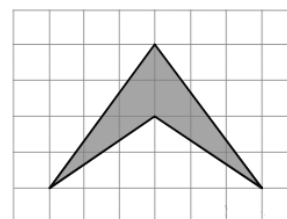
Ответ: _____.

2 На диаграмме показана среднемесячная температура воздуха в Екатеринбурге (Свердловске) за каждый месяц 1973 года. По горизонтали указываются месяцы, по вертикали — температура в градусах Цельсия. Определите по диаграмме разность между наибольшей и наименьшей среднемесячными температурами в 1973 году. Ответ дайте в градусах Цельсия.



Ответ: _____.

3 Найдите площадь треугольника, изображенного на клетчатой бумаге с размером клетки 1 см x 1 см (см. рис.). Ответ дайте в квадратных сантиметрах.



Ответ: _____.

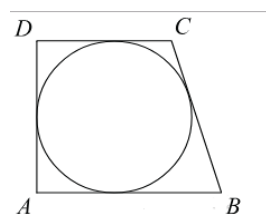
- 4 В случайном эксперименте бросают две игральные кости. Найдите вероятность того, что в сумме выпадет 8 очков. Результат округлите до сотых.

Ответ: _____.

- 5 Найдите корень уравнения $\log_{81} 3^{2x-6} = 2$.

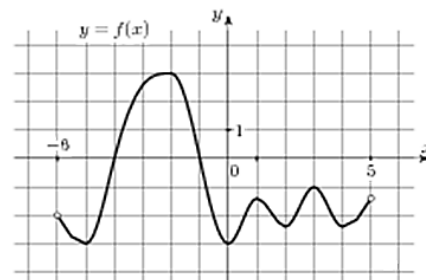
Ответ: _____.

- 6 Периметр прямоугольной трапеции, описанной около окружности, равен 22, ее большая боковая сторона равна 7. Найдите радиус окружности.



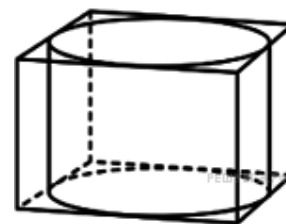
Ответ: _____.

- 7 На рисунке изображен график функции $y = f(x)$, определенной на интервале $(-6; 5)$. Найдите количество точек, в которых касательная к графику функции параллельна прямой $y = -6$.



Ответ: _____.

- 8 Прямоугольный параллелепипед описан около цилиндра, радиус основания которого равен 4. Объем параллелепипеда равен 16. Найдите высоту цилиндра.



Ответ: _____.

Не забудьте перенести все ответы в бланк ответов №1.

Часть 2

9 Найдите значение выражения $\sqrt{(a-5)^2} + \sqrt{(a-14)^2}$ при $5 \leq a \leq 14$.

Ответ: _____.

10 Для сматывания кабеля на заводе используют лебедку, которая равноускоренно наматывает кабель на катушку. Угол, на который поворачивается катушка, изменяется со временем по закону $\varphi = \omega t + \frac{\beta t^2}{2}$, где t — время в минутах, $\omega = 20^\circ / \text{мин}$ — начальная угловая скорость вращения катушки, а $\beta = 4^\circ / \text{мин}^2$ — угловое ускорение, с которым наматывается кабель. Рабочий должен проверить ход его намотки не позже того момента, когда угол намотки φ достигнет 1200° . Определите время после начала работы лебедки, не позже которого рабочий должен проверить ее работу. Ответ выразите в минутах.

Ответ: _____.

11 Имеется два сплава. Первый сплав содержит 5% меди, второй — 14% меди. Масса второго сплава больше массы первого на 10 кг. Из этих двух сплавов получили третий сплав, содержащий 12% меди. Найдите массу третьего сплава. Ответ дайте в килограммах.

Ответ: _____.

12 Найдите точку максимума функции $y = (2x - 1) \cos x - 2 \sin x + 5$, принадлежащую промежутку $\left(0; \frac{\pi}{2}\right)$.

Ответ: _____.

Не забудьте перенести все ответы в бланк ответов №1 в соответствии с инструкцией по выполнению работы.

Проверьте, чтобы каждый ответ был записан в строке с номером соответствующего задания.

Для записи решений и ответов на задания 13 – 19 используйте **БЛАНК ОТВЕТОВ №2**. Запишите сначала номер выполняемого задания (13, 14 и т. д.), а затем полное обоснованное решение и ответ. Ответы записывайте четко и разборчиво.

13

а) Решите уравнение $\frac{5 \sin^2 x - 3 \sin x}{5 \cos x + 4} = 0$.

б) Найдите все корни этого уравнения, принадлежащие отрезку $\left[-\frac{7\pi}{2}; -2\pi\right]$.

14

В основании пирамиды $SABCD$ лежит прямоугольник $ABCD$ со стороной $AB = 4$ и диагональю $BD = 7$. Все боковые ребра пирамиды равны 4. На диагонали BD основания $ABCD$ отмечена точка E , а на ребре AS – точка F так, что $SF = BE = 3$.

а) Докажите, что плоскость CEF параллельна ребру SB .

б) Плоскость CEF пересекает ребро SD в точке Q . Найдите расстояние от точки Q до плоскости ABC .

15

Решите неравенство $3^{|x|} - 8 - \frac{3^{|x|} + 9}{9^{|x|} - 4 \cdot 3^{|x|} + 3} \leq \frac{5}{3^{|x|} - 1}$.

16

Окружность, вписанная в треугольник ABC , касается сторон BC и AC в точках M и N соответственно, E и F – середины сторон AB и AC соответственно. Прямые MN и EF пересекаются в точке D .

а) Докажите, что треугольник DFN равнобедренный.

б) Найдите площадь треугольника BED , если $AB = 20$ и $\angle ABC = 60^\circ$.

17

15 января планируется взять кредит в банке на 9 месяцев. Условия его возврата таковы:

— 1-го числа каждого месяца долг возрастает на 4 % по сравнению с концом предыдущего месяца;

— со 2-го по 14-е число каждого месяца необходимо выплатить часть долга;

— 15-го числа каждого месяца долг должен быть на одну и ту же величину меньше долга на 15-е число предыдущего месяца.

Известно, что в пятый месяц кредитования нужно выплатить 44 тыс. рублей. Какую сумму нужно вернуть банку в течение всего срока кредитования?

- 18 Найдите все неотрицательные значения a , при каждом из которых система уравнений

$$\begin{cases} \sqrt{(x+2)^2 + y^2} + \sqrt{x^2 + (y-a)^2} = \sqrt{4+a^2}, \\ 5y = |6-a^2| \end{cases}$$

имеет единственное решение.

- 19 Шесть экспертов оценивали фильм. Каждый из них выставил оценку — целое число баллов от 0 до 10 включительно. Все эксперты выставили различные оценки. Старый рейтинг фильма — это среднее арифметическое всех оценок экспертов. Новый рейтинг фильма вычисляется следующим образом: отбрасываются наименьшая и наибольшая оценки, и подсчитывается среднее арифметическое четырёх оставшихся оценок.

- а) Может ли разность рейтингов, вычисленных по старой и новой системам оценивания, равняться $\frac{1}{18}$?
- б) Может ли разность рейтингов, вычисленных по старой и новой системам оценивания, равняться $\frac{1}{12}$?
- в) Найдите наибольшее возможное значение разности старого и нового рейтингов.