

Тренировочная работа по МАТЕМАТИКЕ

9 класс

2019 год

Вариант МА9001

Район

Город

Школа

Класс

Фамилия

Имя

Отчество

Инструкция по выполнению работы

Работа состоит из двух модулей: «Алгебра» и «Геометрия». Всего в работе 26 заданий. Модуль «Алгебра» содержит семнадцать заданий: в части 1 — четырнадцать заданий; в части 2 — три задания. Модуль «Геометрия» содержит девять заданий: в части 1 — шесть заданий; в части 2 — три задания.

На выполнение экзаменационной работы по математике отводится 3 часа 55 минут (235 минут).

Ответы к заданиям 2, 3, 14 запишите в виде одной цифры, которая соответствует номеру правильного ответа.

Для остальных заданий части 1 ответом является число или последовательность цифр. Если в ответе получена обыкновенная дробь, обратите её в десятичную.

Решения заданий части 2 и ответы к ним запишите на отдельном листе бумаги. Задания можно выполнять в любом порядке, начиная с любого модуля. Текст задания переписывать не надо, необходимо только указать его номер.

Сначала выполняйте задания части 1. Начать советуем с тех заданий, которые вызывают у Вас меньше затруднений, затем переходите к другим заданиям. Для экономии времени пропускайте задание, которое не удаётся выполнить сразу, и переходите к следующему. Если у Вас останется время, Вы сможете вернуться к пропущенным заданиям.

При выполнении части 1 все необходимые вычисления, преобразования выполняйте в черновике. Записи в черновике не учитываются при оценивании работы. Если задание содержит рисунок, то на нём непосредственно в тексте работы можно выполнять необходимые Вам построения. Рекомендуем внимательно читать условие и проводить проверку полученного ответа.

При выполнении работы Вы можете воспользоваться справочными материалами, выданными вместе с вариантом.

Баллы, полученные Вами за выполненные задания, суммируются. Постарайтесь выполнить как можно больше заданий и набрать наибольшее количество баллов.

Желаем успеха!

Часть 1

Ответами к заданиям 1–20 являются цифра, число или последовательность цифр.

Модуль «Алгебра»

1 Найдите значение выражения $-3 \cdot (-3,9) - 9,6$.

Ответ: _____.

2 Учёный Куликов выезжает из Москвы на конференцию в Санкт-Петербургский университет. Работа конференции начинается в 10: 00. В таблице дано расписание ночных поездов Москва – Санкт-Петербург.

Номер поезда	Отправление из Москвы	Прибытие в Санкт-Петербург
026А	22:42	06:32
002А	23:55	07:55
038А	22:42	06:40
016А	00:43	09:12

Путь от вокзала до университета занимает полчаса. Укажите номер самого позднего (по времени отправления) поезда, который подходит учёному Куликову.

- 1) 026А 2) 002А 3) 038А 4) 016А

Ответ:

3 Какому из данных промежутков принадлежит число $\frac{4}{9}$?

- 1) $[0,1; 0,2]$ 2) $[0,2; 0,3]$ 3) $[0,3; 0,4]$ 4) $[0,4; 0,5]$

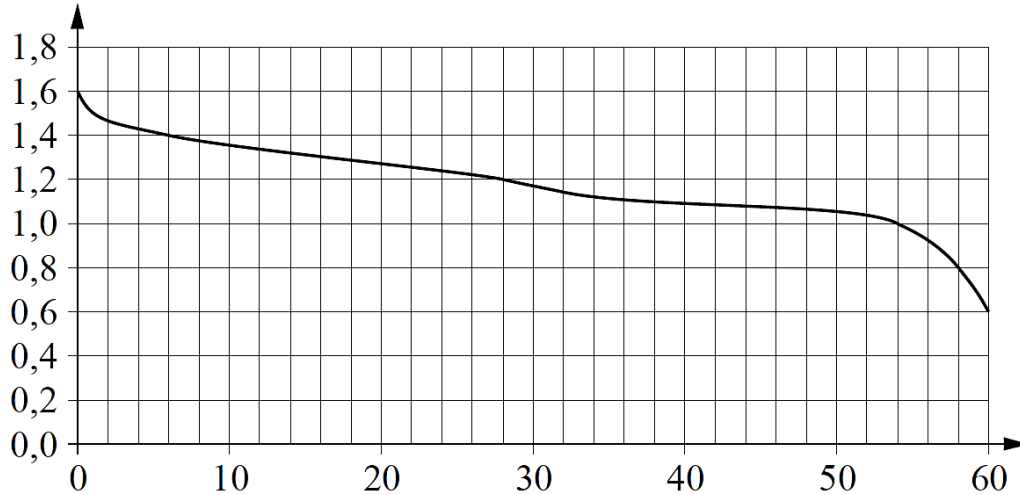
Ответ:

4 Найдите значение выражения $\frac{15^8}{3^6 \cdot 5^7}$.

Ответ: _____.

5

При работе фонарика батарейка постепенно разряжается и напряжение в электрической цепи фонарика падает. На графике показана зависимость напряжения в цепи от времени работы фонарика. На горизонтальной оси отмечено время работы фонарика в часах, на вертикальной оси — напряжение в вольтах. Определите по графику, на сколько вольт упадёт напряжение с 54-го по 58-й час работы фонарика.



Ответ: _____.

6

Решите уравнение $5x^2 + 8x + 3 = 0$.

Если уравнение имеет более одного корня, в ответе запишите больший из корней.

Ответ: _____.

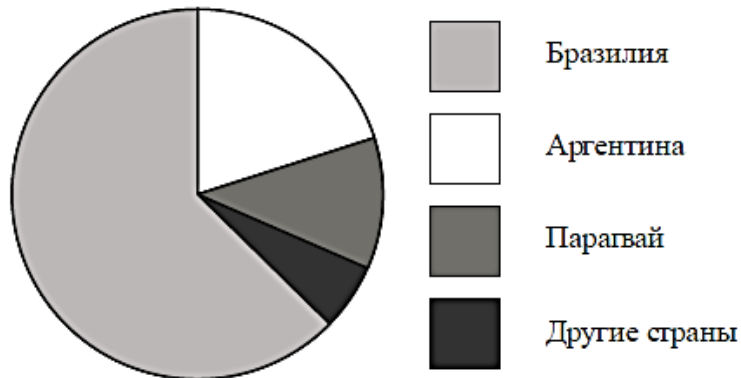
7

Для приготовления фарша взяли говядину и свинину в отношении 7:13. Сколько процентов фарша составляет свинина?

Ответ: _____.

8

На диаграмме представлено распределение количества пользователей некоторой социальной сети по странам мира. Всего в этой социальной сети 9 миллионов пользователей.



Какие из следующих утверждений **неверны**?

- 1) Пользователей из Аргентины больше, чем пользователей из Парагвая.
- 2) Пользователей из Аргентины больше четверти общего числа пользователей.
- 3) Пользователей из Парагвая больше, чем пользователей из Эстонии.
- 4) Пользователей из Бразилии больше 8 миллионов.

В ответе запишите номера выбранных утверждений без пробелов, запятых и других дополнительных символов.

Ответ: _____.

9

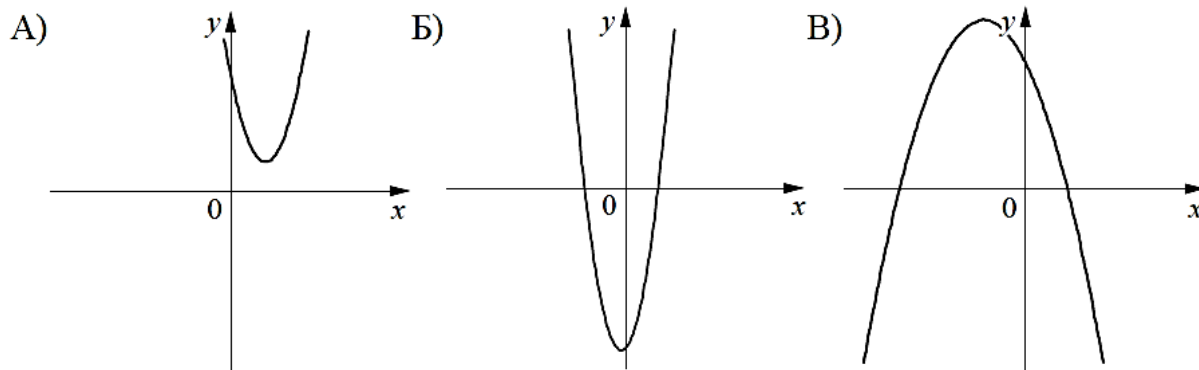
В магазине канцтоваров продаётся 145 ручек: 15 красных, 27 зелёных, 13 фиолетовых, остальные синие и чёрные, их поровну. Найдите вероятность того, что случайно выбранная в этом магазине ручка будет фиолетовой или синей.

Ответ: _____.

10

На рисунках изображены графики функций вида $y = ax^2 + bx + c$. Установите соответствие между графиками функций и знаками коэффициентов a и c .

ГРАФИКИ



КОЭФФИЦИЕНТЫ

- 1) $a > 0, c < 0$ 2) $a < 0, c > 0$ 3) $a > 0, c > 0$

В таблице под каждой буквой укажите соответствующий номер.

Ответ:

А	Б	В

11 Выписаны первые три члена геометрической прогрессии: 100; 20; 4; ...
Найдите её пятый член.

Ответ: _____.

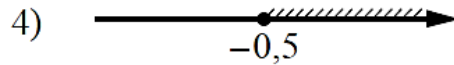
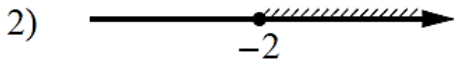
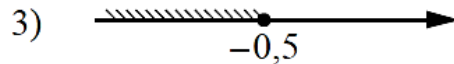
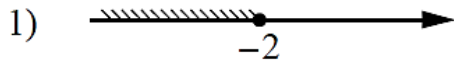
12 Найдите значение выражения $\frac{x^2 - xy}{12y} \cdot \frac{4y}{x - y}$ при $x = 7,8, y = 17$.

Ответ: _____.

13 Перевести значение температуры по шкале Фаренгейта в шкалу Цельсия позволяет формула $t_c = \frac{5}{9}(t_F - 32)$, где t_c — температура в градусах Цельсия, t_F — температура в градусах Фаренгейта. Скольким градусам по шкале Цельсия соответствует 23 градуса по шкале Фаренгейта?

Ответ: _____.

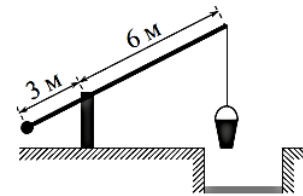
14 Укажите решение неравенства $3 - x \geq 3x + 5$.



Ответ:

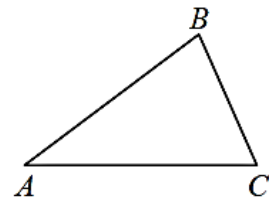
Модуль «Геометрия»

15 На рисунке изображён колодец с «журавлём». Короткое плечо имеет длину 3 м, а длинное плечо — 6 м. На сколько метров опустится конец длинного плеча, когда конец короткого поднимется на 1,5 м?



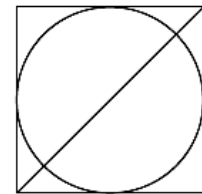
Ответ: _____.

16 В треугольнике ABC известно, что $AB = 12$, $BC = 10$, $\sin \angle ABC = \frac{8}{15}$. Найдите площадь треугольника ABC .



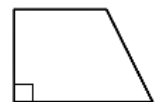
Ответ: _____.

17 Радиус вписанной в квадрат окружности равен $24\sqrt{2}$. Найдите диагональ этого квадрата.



Ответ: _____.

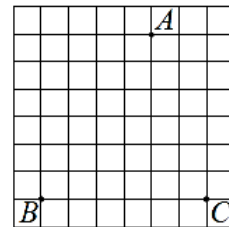
18 Один из углов прямоугольной трапеции равен 51° . Найдите больший угол этой трапеции. Ответ дайте в градусах.



Ответ: _____.

19

На клетчатой бумаге с размером клетки 1×1 отмечены три точки: A , B и C . Найдите расстояние от точки A до прямой BC .



Ответ: _____.

20

Какое из следующих утверждений верно?

- 1) В параллелограмме есть два равных угла.
 - 2) В тупоугольном треугольнике все углы тупые.
 - 3) Площадь прямоугольника равна произведению длин всех его сторон.
- В ответе запишите номер выбранного утверждения.

Ответ: _____.

При выполнении заданий 21–26 используйте отдельный лист бумаги. Сначала укажите номер задания, а затем запишите его решение и ответ. Пишите чётко и разборчиво.

Часть 2

Модуль «Алгебра»

21

Решите уравнение $x^4 = (4x - 5)^2$.

22

Имеются два сосуда, содержащие 4 кг и 16 кг раствора кислоты различной концентрации. Если их слить вместе, то получится раствор, содержащий 57 % кислоты. Если же слить равные массы этих растворов, то полученный раствор будет содержать 60% кислоты. Сколько килограммов кислоты содержится в первом растворе?

23

Постройте график функции

$$y = \begin{cases} -x^2 - 4x + 1 & \text{при } x \geq -3, \\ -x + 1 & \text{при } x < -3. \end{cases}$$

Определите, при каких значениях m прямая $y = m$ имеет с графиком ровно две общие точки.

Модуль «Геометрия»

- 24 Прямая, параллельная основаниям трапеции $ABCD$, пересекает её боковые стороны AB и CD в точках E и F соответственно. Найдите длину отрезка EF , если $AD = 45$, $BC = 20$, $CF : DF = 4 : 1$.
- 25 Через точку O пересечения диагоналей параллелограмма $ABCD$ проведена прямая, пересекающая стороны AB и CD в точках P и Q соответственно. Докажите, что отрезки BP и DQ равны.
- 26 В равнобедренную трапецию, периметр которой равен 200, а площадь равна 1500, можно вписать окружность. Найдите расстояние от точки пересечения диагоналей трапеции до её меньшего основания.