

Тренировочная работа по МАТЕМАТИКЕ

9 класс

2019 год

Вариант МА9004

Район

Город

Школа

Класс

Фамилия

Имя

Отчество

Инструкция по выполнению работы

Экзаменационная работа состоит из двух частей, включающих в себя 26 заданий. Часть 1 содержит 20 заданий, часть 2 содержит 6 заданий с развёрнутым ответом.

На выполнение экзаменационной работы по математике отводится 3 часа 55 минут (235 минут).

Ответы к заданиям 7 и 15 запишите в бланк ответов № 1 в виде одной цифры, которая соответствует номеру правильного ответа.

Для остальных заданий части 1 ответом является число или последовательность цифр. Ответ запишите в поле ответа в тексте работы, а затем перенесите в бланк ответов № 1. Если получилась обыкновенная дробь, ответ запишите в виде десятичной.

Решения заданий части 2 и ответы к ним запишите на бланке ответов № 2. Задания можно выполнять в любом порядке. Текст задания переписывать не надо, необходимо только указать его номер.

Все бланки заполняются яркими чёрными чернилами. Допускается использование гелевой или капиллярной ручки.

Сначала выполняйте задания части 1. Начать советуем с тех заданий, которые вызывают у Вас меньше затруднений, затем переходите к другим заданиям. Для экономии времени пропускайте задание, которое не удаётся выполнить сразу, и переходите к следующему. Если у Вас останется время, Вы сможете вернуться к пропущенным заданиям.

При выполнении части 1 все необходимые вычисления, преобразования выполняйте в черновике. **Записи в черновике, а также в тексте контрольных измерительных материалов не учитываются при оценивании работы.**

Если задание содержит рисунок, то на нём непосредственно в тексте работы можно выполнять необходимые Вам построения. Рекомендуем внимательно читать условие и проводить проверку полученного ответа.

При выполнении работы Вы можете воспользоваться справочными материалами, выданными вместе с вариантом КИМ.

Баллы, полученные Вами за выполненные задания, суммируются. Постарайтесь выполнить как можно больше заданий и набрать наибольшее количество баллов.

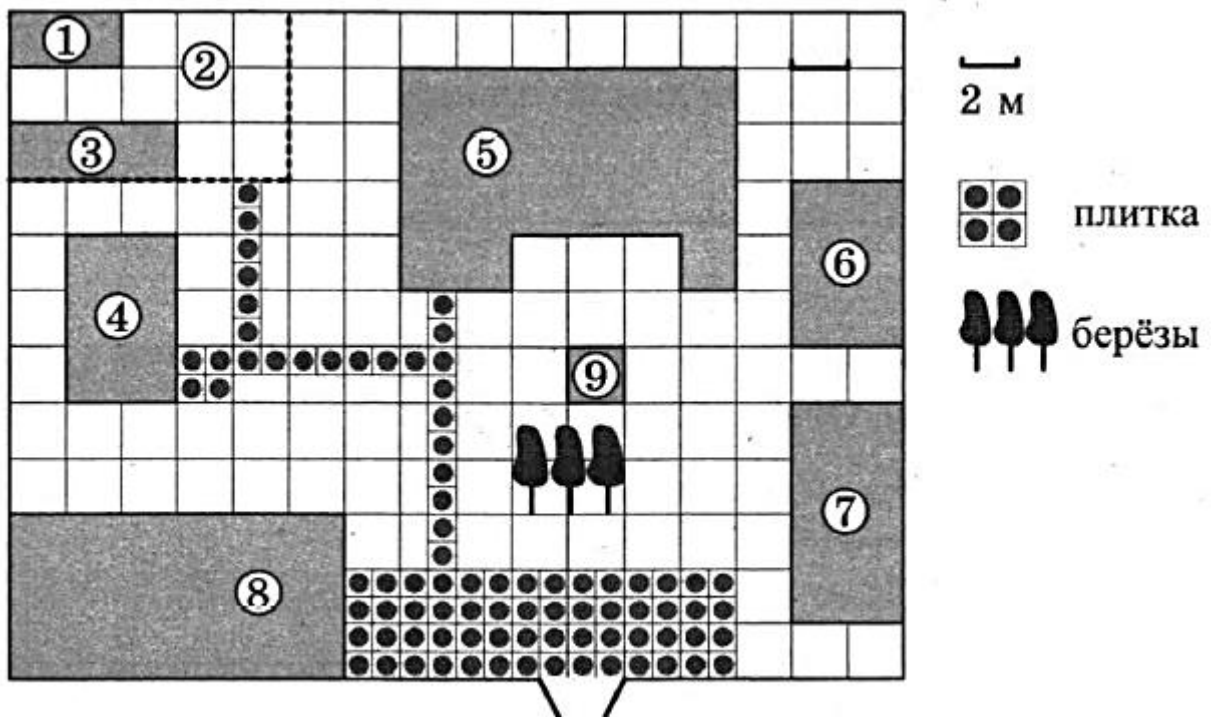
Для прохождения аттестационного порога необходимо набрать не менее 8 баллов, из которых не менее 2 баллов должны быть получены за решение заданий по геометрии (задания 16–20, 24–26).

После завершения работы проверьте, чтобы ответ на каждое задание в бланках ответов № 1 и №2 был записан под правильным номером.

Желаем успеха!

Ответами к заданиям 1–20 являются число или последовательность цифр, которые следует записать в БЛАНК ОТВЕТОВ № 1 справа от номера соответствующего задания, начиная с первой клеточки. Если ответом является последовательность цифр, то запишите её без пробелов, запятых и других дополнительных символов. Каждый символ пишите в отдельной клеточке в соответствии с приведёнными в бланке образцами.

Прочитайте внимательно текст и выполните задания 1–5.



На плане изображено домохозяйство, находящееся по адресу: с. Малые Всегодичи, д. 26. Сторона каждой клеточки на плане равна 2 м. Участок имеет форму прямоугольника. Выезд и въезд осуществляются через единственные ворота.

При входе на участок справа от ворот находится коровник, а слева — курятник. Площадь, занятая курятником, равна 72 кв. м. Рядом с курятником расположен пруд площадью 24 кв. м.

Жилой дом расположен в глубине территории. Перед домом имеется фонтан, а между фонтаном и воротами — небольшая берёзовая рожица. Между жилым домом и коровником построена баня. За домом находится огород (его границы отмечены на плане пунктирной линией), на котором есть теплица, а также (в самом углу и огорода, и всего домохозяйства) — компостная яма.

Все дорожки внутри участка имеют ширину 1 м и вымощены тротуарной плиткой размером 1 м × 1 м. Между коровником и курятником имеется площадка площадью 56 кв. м, вымощенная такой же плиткой.

- 1 Сопоставьте объекты, указанные в таблице, с цифрами, которыми эти объекты обозначены на плане. Заполните таблицу, а в бланк ответов перенесите последовательность из пяти цифр.

Объекты	пруд	жилой дом	теплица	компостная яма	фонтан
Цифры					

Ответ: _____.

- 2 Тротуарная плитка продается в упаковках по 6 штук. Сколько упаковок понадобится купить владельцам для того, чтобы обновить плитку на всех дорожках, не трогая при этом старую плитку на площадке между коровником и курятником?

Ответ: _____.

- 3 На сколько квадратных метров жилой дом занимает большую площадь, чем коровник?

Ответ: _____.

- 4 Найдите расстояние от курятника до коровника (расстояние между двумя ближайшими точками объектов по прямой). Ответ дайте в метрах.

Ответ: _____.

- 5 Владельцы домохозяйства планируют обновить всю тротуарную плитку (и дорожки, и площадку между коровником и курятником). В таблице представлены условия трех поставщиков плитки.

Поставщик	Стоимость плитки (в рублях за 1 кв. м)	Доставка (в рублях)	Работы по демонтажу старой плитки и по укладке новой (в рублях)
1	299	3400	3500
2	299	3600	5500
3	399	1500	бесплатно

Во сколько рублей обойдется владельцам самый выгодный вариант?

Ответ: _____.

6 Найдите значение выражения $\frac{5,6 \cdot 0,3}{0,8}$.
 Ответ: _____.

7 Какое из данных утверждений верно, если $a < b$?

- 1) $a - b > 5$ 2) $a - b < 3$ 3) $b - a < 1$ 4) $b - a > 3$

Ответ: .

8 Найдите значение выражения $3\sqrt{19} \cdot 3\sqrt{2} \cdot \sqrt{38}$.

Ответ: _____.

9 Решите уравнение $9x = -x^2 - 18$. Если уравнение имеет более одного корня, в ответе запишите меньший из корней.

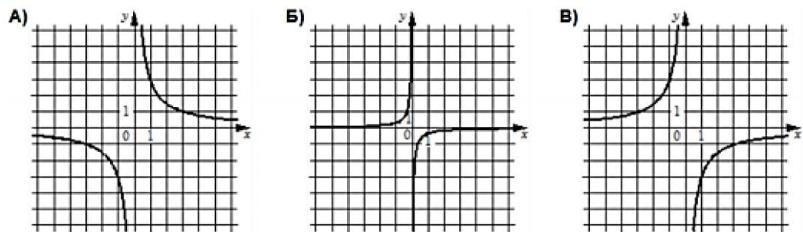
Ответ: _____.

10 В среднем из 150 карманных фонариков, поступивших в продажу, три неисправных. Найдите вероятность того, что выбранный наудачу в магазине фонарик окажется исправен.

Ответ: _____.

11 Установите соответствие между графиками функций и формулами, которые их задают.

ГРАФИКИ



КОЭФФИЦИЕНТЫ

1) $y = -\frac{1}{3x}$

2) $y = -\frac{3}{x}$

3) $y = \frac{3}{x}$

В таблице под каждой буквой укажите соответствующий номер

Ответ:

А	Б	В

12

В первом ряду кинозала 35 мест, а в каждом следующем на 1 больше, чем в предыдущем. Сколько мест в тринадцатом ряду?

Ответ: _____.

13

Найдите значение выражения $\frac{a^2 - 36b^2}{6ab} : \left(\frac{1}{6b} - \frac{1}{a}\right)$ при $a = 5\frac{5}{17}$, $b = 5\frac{2}{17}$.

Ответ: _____.

14

Длину окружности l можно вычислить по формуле $l = 2\pi R$, где R — радиус окружности (в метрах). Пользуясь этой формулой, найдите радиус окружности, если ее длина равна 78 м. (Считать $\pi = 3$).

Ответ: _____.

15

Укажите решение неравенства: $4x - x^2 < 0$.

1) $(4; +\infty)$

2) $(0; 4)$

3) $(0; +\infty)$

4) $(-\infty; 0) \cup (4; +\infty)$

Ответ: .

16

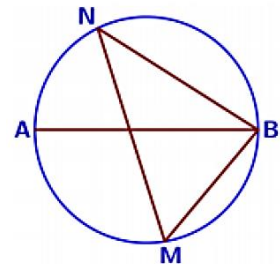
Биссектрисы углов N и M треугольника MNP пересекаются в точке A . Найдите $\angle NAM$, если $\angle N = 84^\circ$, а $\angle M = 42^\circ$.

Ответ: _____.

17

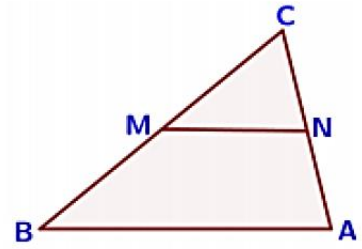
На окружности по разные стороны от диаметра AB взяты точки M и N . Известно, что $\angle NBA = 32^\circ$. Найдите угол NMB . Ответ дайте в градусах.

Ответ: _____.



18

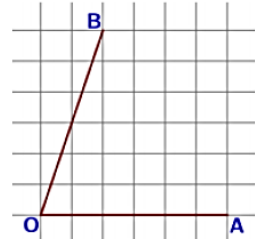
В треугольнике ABC отмечены середины M и N сторон BC и AC соответственно. Площадь четырёхугольника $ABMN$ равна 126. Найдите площадь треугольника CNM .



Ответ: _____.

19

Найдите тангенс угла AOB , изображенного на рисунке.



Ответ: _____.

20

Какое из следующих утверждений верно?

- 1) Существует квадрат, который не является ромбом.
- 2) Диагонали ромба перпендикулярны.
- 3) Диагональ трапеции делит её на два равных треугольника.

В ответе запишите номера выбранных утверждений без пробелов, запятых и других дополнительных символов.

Ответ: _____.



Не забудьте перенести все ответы в бланк ответов № 1 в соответствии с инструкцией по выполнению работы. Проверьте, чтобы каждый ответ был записан в строке с номером соответствующего задания.

При выполнении заданий 21–26 используйте отдельный лист бумаги. Сначала укажите номер задания, а затем запишите его решение и ответ. Пишите чётко и разборчиво.

21 Решите уравнение $x^4 = (4x - 5)^2$.

22 Имеются два сосуда, содержащие 4 кг и 16 кг раствора кислоты различной концентрации. Если их слить вместе, то получится раствор, содержащий 57 % кислоты. Если же слить равные массы этих растворов, то полученный раствор будет содержать 60% кислоты. Сколько килограммов кислоты содержится в первом растворе?

23 Постройте график функции

$$y = \begin{cases} -x^2 - 4x + 1 & \text{при } x \geq -3, \\ -x + 1 & \text{при } x < -3. \end{cases}$$

Определите, при каких значениях m прямая $y = m$ имеет с графиком ровно две общие точки.

24 Прямая, параллельная основаниям трапеции $ABCD$, пересекает её боковые стороны AB и CD в точках E и F соответственно. Найдите длину отрезка EF , если $AD = 45$, $BC = 20$, $CF : DF = 4 : 1$.

25 Через точку O пересечения диагоналей параллелограмма $ABCD$ проведена прямая, пересекающая стороны AB и CD в точках P и Q соответственно. Докажите, что отрезки BP и DQ равны.

26 В равнобедренную трапецию, периметр которой равен 200, а площадь равна 1500, можно вписать окружность. Найдите расстояние от точки пересечения диагоналей трапеции до её меньшего основания.



Проверьте, чтобы каждый ответ был записан рядом с номером соответствующего задания.